


Να κάνετε κάθετα τις παρακάτω διαιρέσεις και να γράψετε στα κυκλάκια **A** αν είναι Ατελείς και **T** αν είναι Τέλειες. Στη συνέχεια να κάνετε και τις δοκιμές.

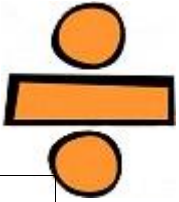
$16 : 3$

$63 : 7$

$12 : 2$



<input type="radio"/>	<input type="radio"/>	<input type="radio"/>




Δοκιμή: _____

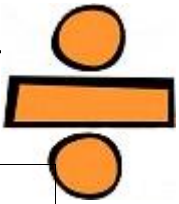
$42 : 6$

$74 : 9$

$28 : 3$



<input type="radio"/>	<input type="radio"/>	<input type="radio"/>




Δοκιμή: _____

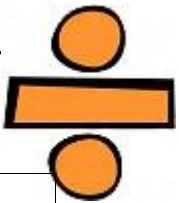
$44 : 11$

$80 : 10$

$30 : 15$



<input type="radio"/>	<input type="radio"/>	<input type="radio"/>



Δοκιμή: _____

